

PSYCHOLOGY

உதாரணம்

- | | | |
|-----|--|-----|
| 1. | புத்தகணீமை (Analogy) | 05 |
| 2. | நொடர்சுள் (Series) | 19 |
| 3. | ஁டுபுல்ல எண் (Missing Number) | 28 |
| 4. | ஁ுவுபுல்ல புண்ற கண்டுபுடி | 35 |
| 5. | எபுக்கு வரிசை | 43 |
| 6. | கண்ணிக் குறியீடுசு நெயல்கள் | 47 |
| 7. | உறவு முறைகள் (Blood Relations) | 63 |
| 8. | திசை மற்றும் ஁ரம் (Direction) | 77 |
| 9. | நெரம் மற்றும் கெதி (Time & calenders) | 91 |
| 10. | கரவரிசை (Ranking) | 111 |
| 11. | குறியீடு - மறுகுறியீடு (Coding - Decoding) | 122 |
| 12. | வகைப்படுக்குகல் (Classification) | 133 |
| 13. | கருக்கியல் நொடர்புண வார்த்தைகள் (Meaningful Logical order) | 141 |
| 14. | ஁ுங்கிய ஁கராதி வரிசையுடல் | 149 |
| 15. | புட்கில் ஁டுபுல்ல எண் கணக்குகள் | 157 |

Whatsapp
9578985878

வி. எண்	பாடல் கதைப்பு	பக்க எண்
16.	பதிர் கணக்குகள்	169
17.	உறையல் எண் கணக்குகள்	178
18.	மூக்காணங்களை எண்ணிக்கை	187
19.	பகுப்பாய்வு (syllogism)	196
20.	Analogy Test	212
21.	பொருந்தாத சீரற்ற கண்டுபிடி (spotting out the dissimilar)	219
22.	நெண்ப்பு	227
23.	Water & Mirror	241
24.	கேள்வியைத் தயார்ப்பு	248
25.	பந்தை	254

Whatsapp
9578985878

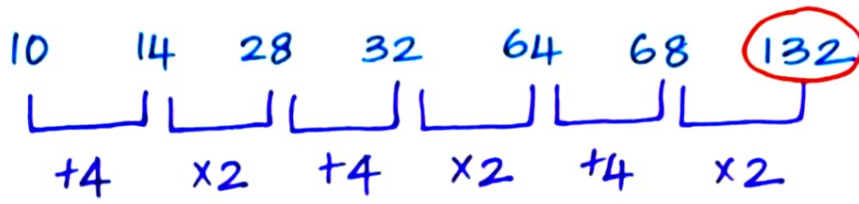
Psychology

Sample PDF

9) 10, 14, 28, 32, 64, 68, 132

a) 28 b) 32 c) 64 d) 132

38



சரியான அடைய முறை = +4, x2, +4, x2

எனவே 132 என்பது கவறு இது $68 \times 2 = 136$

என்ற எண்ணால் பதிலீடு செய்ய வேண்டும்.

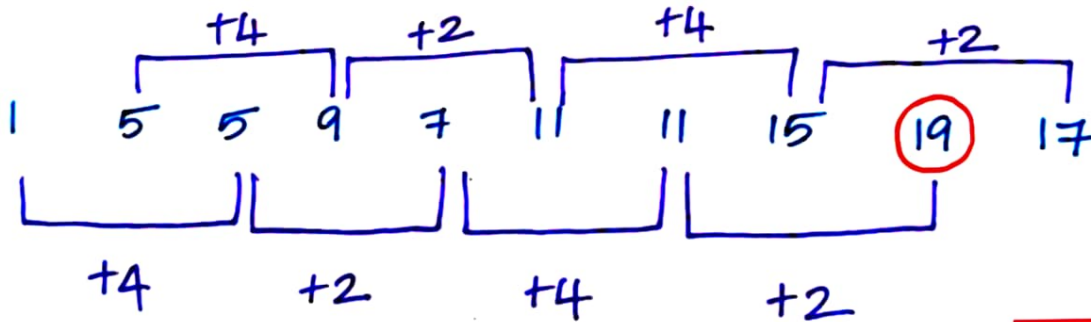
Answer :- d) 132

Telegram ID: @tnpscbooks_official

10) 1, 5, 5, 9, 7, 11, 11, 15, 19, 17

உளவியல்

a) 11 b) 15 c) 17 d) 19



இதில் 19க்கு பதில் 13 உரவேண்டும்.

Sample PDF

Answer :- d) 19

11) 2, 28, 126, 344, 730, 1321

Whatsapp
9578985878

a) 1321 b) 730 c) 126 d) 65

புத்தொரு எண்களின் கணங்களின் கூடுதல்

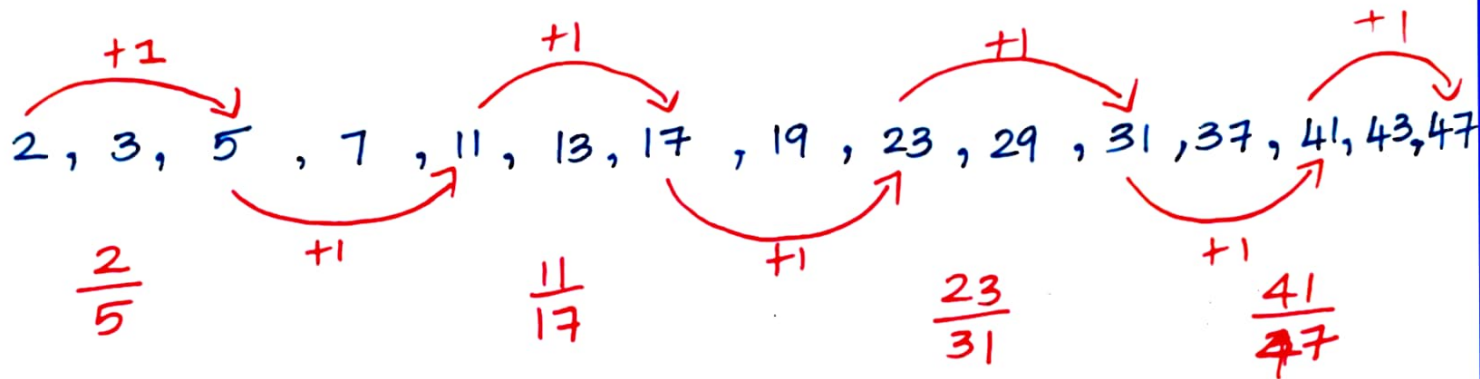
13) $\frac{2}{5} : \frac{11}{17} :: \frac{23}{31} : ?$

11

- a) $\frac{33}{41}$ b) $\frac{33}{37}$ c) $\frac{41}{47}$ d) $\frac{37}{41}$

உளவியல்

Soln:- Prime Numbers :- 2, 3, 5, 7, 11, 13, 17, 19, 23, 29, 31, 37, 41, 43, 47, ...



Answer :- c) $\frac{41}{47}$

14) 60 : 150 :: 52 : ?

Insta ID: @tupscbooks

- a) 140 b) 126 c) 130 d) 134

Sample PDF

Soln:-

60 : 150

$60 : 60 \times 2 + \frac{30}{2} :: 52 : 52 \times 2 + \frac{52}{2}$

60 : 150 :: 52 : 134

Answer :- d) 134

Whatsapp
9578985878

ANALOGY TEST

சம்பந்தம் அறியும் சிற்ப்பு

212

① ↑ : → :: ↖ : ?

உளவியல்




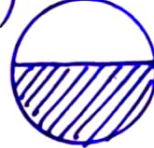
- a) ↗ b) ↘ c) ↙ d) ←

Answer :- a) ↗

Insta ID: @tnpscbooks

②] [: ▭ ::) (: ?

Sample PDF

- a)  b)  c)  d) 

③  :  ::  : ?

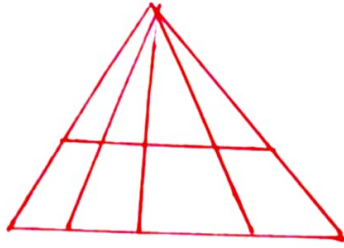
Whatsapp
9578985878

- a)  b)  c)  d) 

④ x △ □ : △ □ x :: O⁺ O⁻ : ?

- a) O⁺ O⁻ b) O⁺ O⁻ c) O⁻ O⁺ d) O⁻ O⁺

3



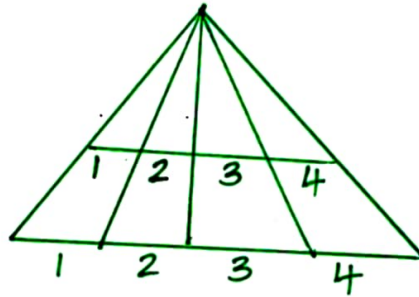
188

- a) 16 b) 17 c) 18 d) 20

Psychology

அடிப்படில் எண்ணிக்கை எது ?

Sample PDF



Whatsapp
9578985878

$$= 1 + 2 + 3 + 4 = 10$$

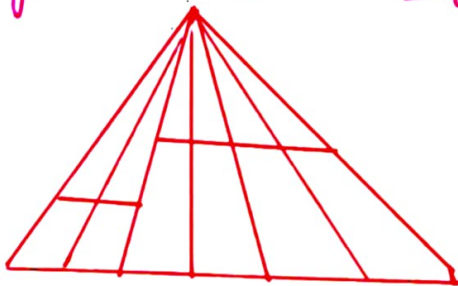
$$= 1 + 2 + 3 + 4 = 10$$

$$20$$

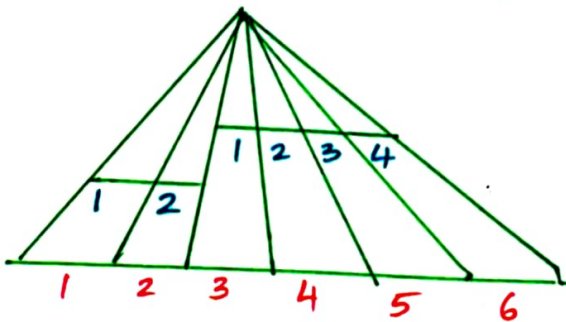
Answer:- d) 20

Telegram ID: @tntpsc_books_official

4



- a) 32 b) 33 c) 34 d) 35



$$= 1 + 2 + 3 + 4 + 5 + 6 = 21$$

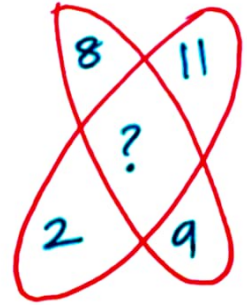
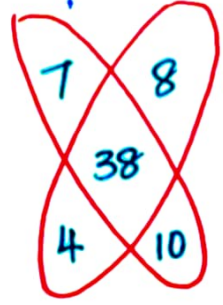
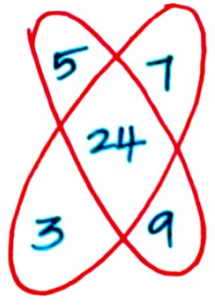
$$= 1 + 2 + 3 + 4 = 10$$

$$= 1 + 2 = 03$$

$$34$$

Answer:- c) 34

18



- a) 40 b) 50 c) 60 d) 70

(i) $5 \times 9 = 45$
 $3 \times 7 = 21 (-)$

 24

(ii) $7 \times 10 = 70$
 $4 \times 8 = 32 (-)$

 38

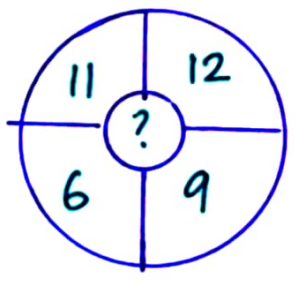
(iii) $8 \times 9 = 72$
 $2 \times 11 = 22 (-)$

 50

Insta ID: @tnpscbooks

Answer :- b) 50

19



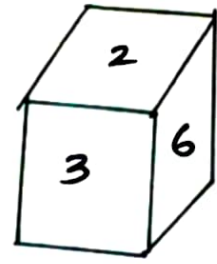

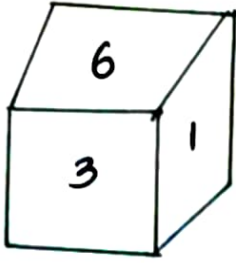
- a) 78
 b) 69
 c) 54
 d) 86

Psychology

Sample PDF

Whatsapp
9578985878

①

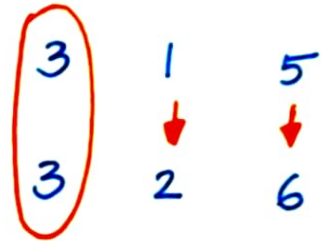
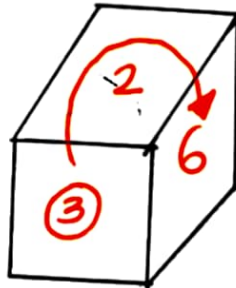
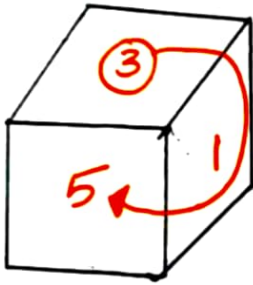


2 எண்ம எண்ணுக்கு எதிரே அமைபும் எண் யாது ?

Solution :- Telegram ID @tnpscbooks_official

பக்கையின் ②, ③ ன் 3 எண்ம ஒரு பக்கம் மட்டும்
பார்க்கப்பட உள்ளது (2x3-1)

Psychology

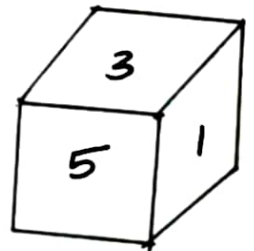
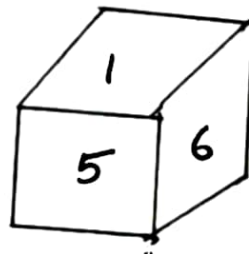

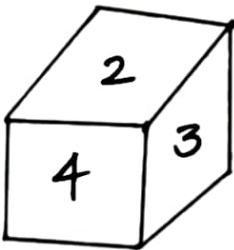


பார்க்கப்படும்

2 எண்ம எண்ணுக்கு எதிரே அமைபும் எண் = 1

② ஒரு பக்கம் நான்கு முனை உள்ளது போல 4 எண்ம
எண்ணுக்கு எதிரே அமைபும் எண் யாது ?

Insta @tnpscbooks



Solution :-

பக்கம் ①, ② ன் 4 எண்ம ஒரு பக்கம் பார்க்கப்படும்

உள்ளது 2x3 (1)

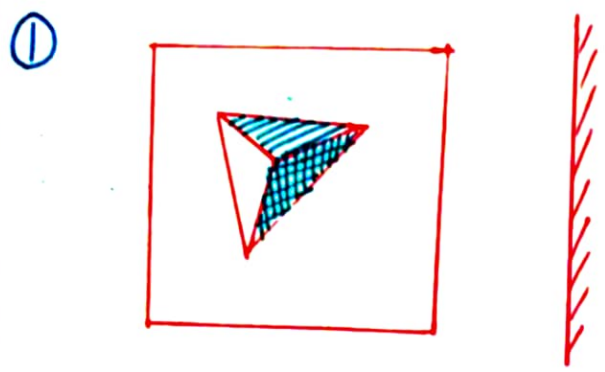
Sample PDF

Whatsapp
9578985878

WATER & MIRROR IMAGE

நீர் லிங்கிலி கண்ணாட்டி லிம்பலி

Psychology




Instaid: @tnpscbooks

கொடு 2 நிமித ஸ்கீமின் கண்ணாட்டி லிம்பலி எது ?

- a)
- b)
- c)
- d)

Answer: - b)

Sample PDF



கொடு 2 நிமித ஸ்கீமின் நீரின்க்
கிரிசுமலிபு லிம்பல்க்கின்க் ஸ்கீ
எது ?



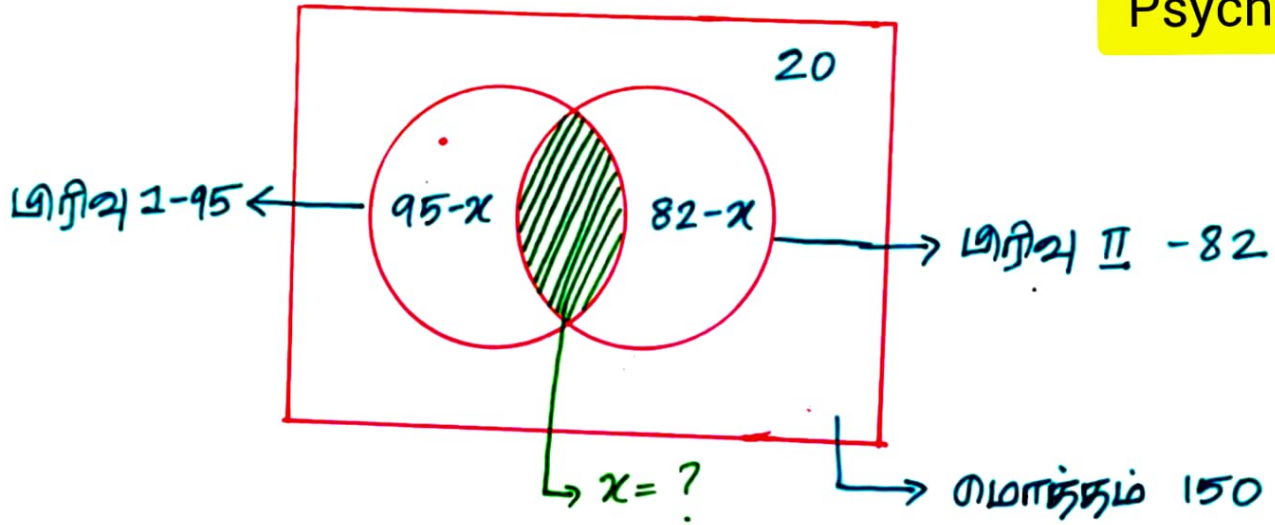
Whatsapp
9578985878

- a)
- b)
- c)
- d)

Answer: - b)

- 18) பள்ளியில் 150 மாணவர்கள் 10 ம் வகுப்பில் தேர்ச்சி. (239)
 இவர்களில் 95 மாணவர்கள் பிரிவு I க்கும் 82 மாணவர்கள்
 பிரிவு II க்கும் அண்ணப்பித்தார்கள். 20 மாணவர்கள்
 எந்த பிரிவுக்கும் அண்ணப்பிக்கவில்லை, எனில் 2
 பிரிவுகளுக்கும் அண்ணப்பிக்க மாணவர்கள் எத்தனை பேர்?
 a) 40 b) 50 c) 47 d) 55

Psychology



Insta ID : @tnpscbooks

$$150 = 95 - x + x + 82 - x + 20$$

$$150 = 197 - x$$

$$x = 197 - 150$$

$$x = 47 \text{ [அண்ணப்பிக்கும் மாணவர்கள்]}$$

Answer :- c) 47 பேர்

Sample PDF

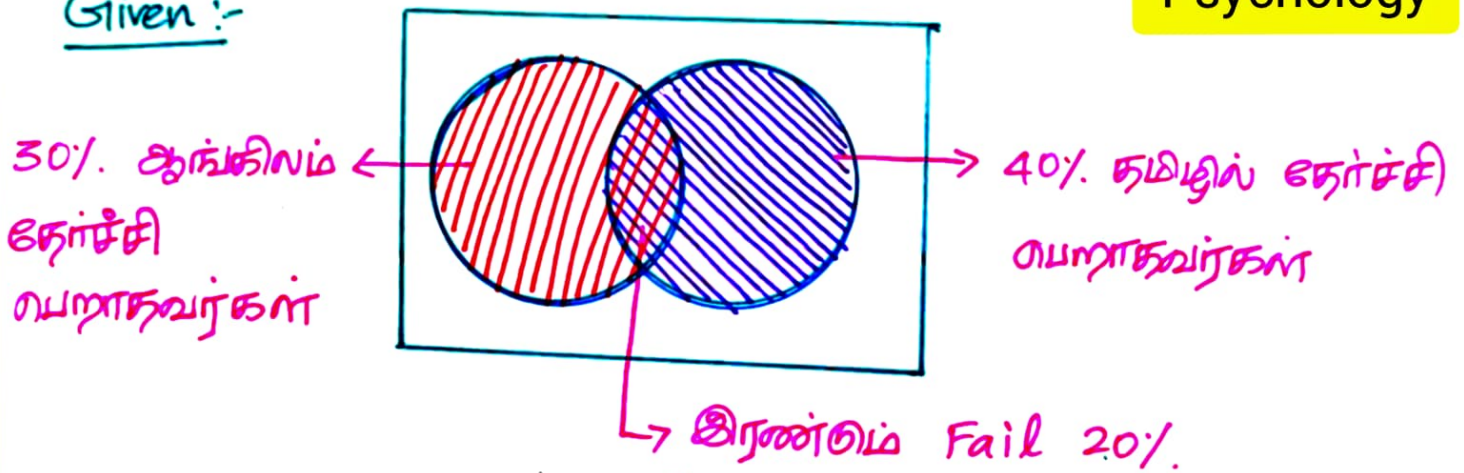
Whatsapp
9578985878

17) ஒரு தேர்வில் 30% மாணவிகள் ஆங்கில பாடத்தில் தேர்ச்சி பெற்றதில்லை, 40% மாணவிகள் தமிழில் (238) தேர்ச்சி பெற்றதில்லை. 2 பாடங்களிலும் தேர்ச்சி பெறாதவர்கள் 20%. எனினும் 2 பாடங்களிலும் தேர்ச்சி பெற்ற மாணவிகளில் % என்ன? Telegram ID: @tnpscbooks_official

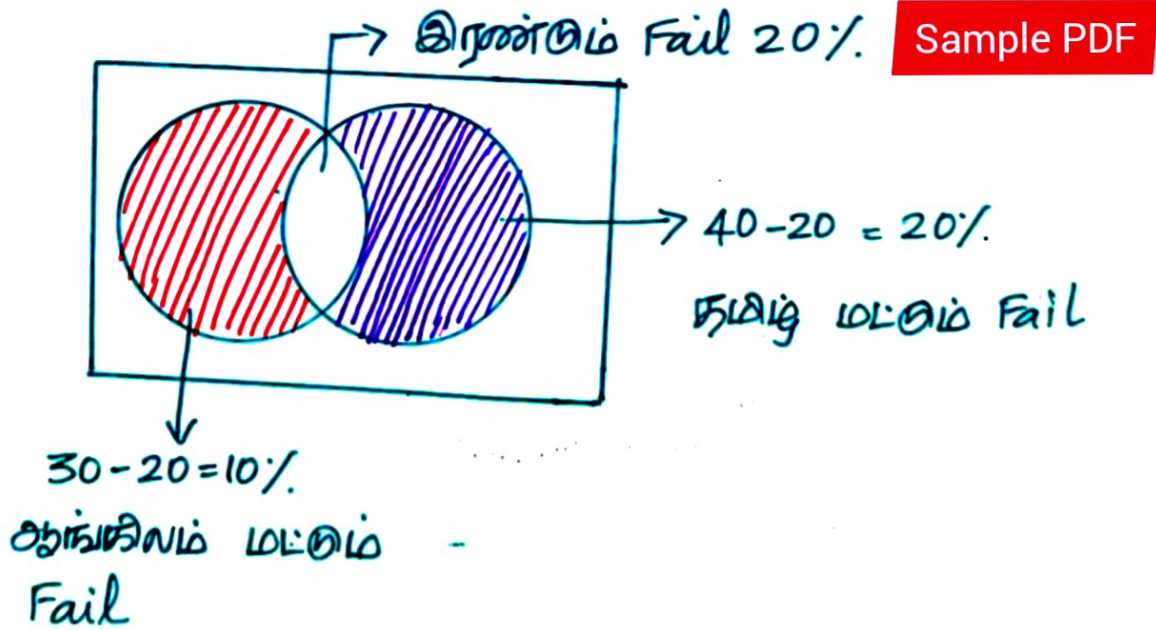
a) 30% b) 40% c) 50% d) 60%

Psychology

Given :-



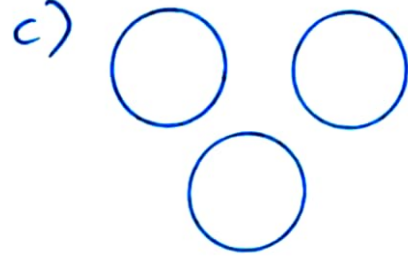
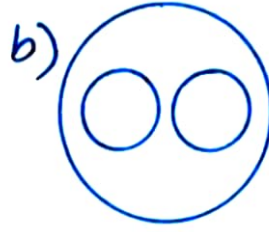
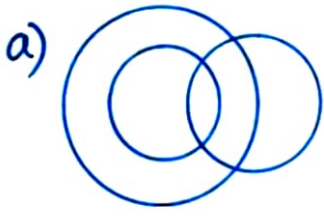
Soln :-



இரண்டும் தேர்ச்சி பெற்றவர்கள்
 $= 100\% - (10 + 20 + 20)$
 $= 50\%$
 Answer :- c) 50%

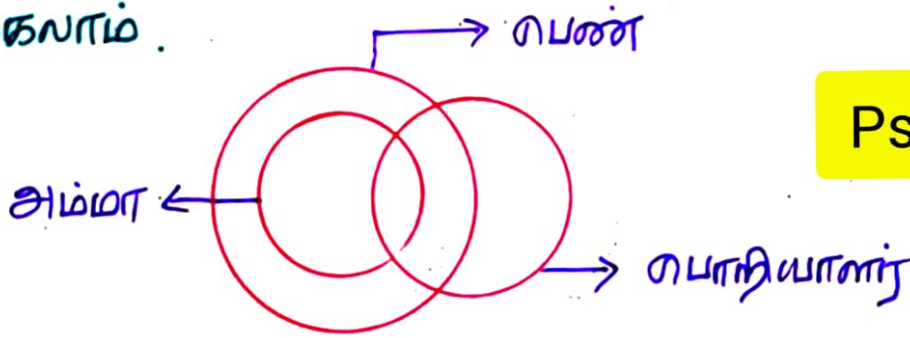
Whatsapp
9578985878

4) ரபண்கள் , அம்மடா , ரபாநியாளர்கள் இவற்றை ஁ளக்டும் ரவண்பலம் ரக்டு ? 230



Telegram ID : @tnpscbooks_official

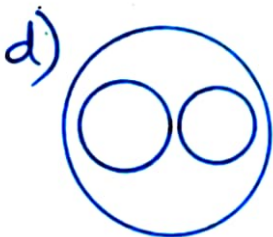
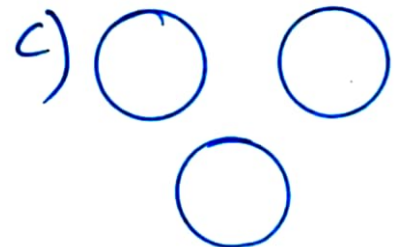
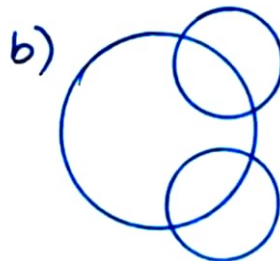
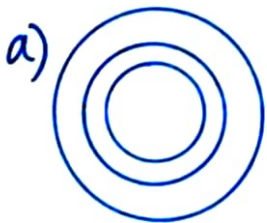
* ரபண்கள் அணைவரும் அம்மடாக்கள் அக்டுவார்டர்கள் சில ரபண்கள் , சில அம்மடாக்கள் ரபாநியாளர்கள் இருக்கலாம் .



Psychology

Answer :- A)

5) ரகாடிஞ்சாலை , உற்பக்டி , இயக்டிரம் இவற்றின் ஁ளக்டும் ரவண்பலம் ?

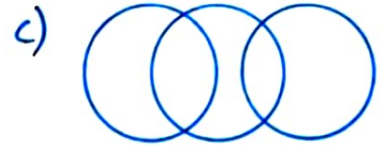
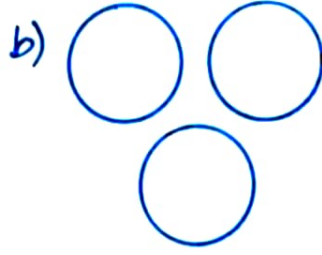



Sample PDF


Whatsapp
9578985878

② பயணிகள் , இரயில் , பேருந்து இயற்றை அளக்கும்
 மெய்யை எது ?

229

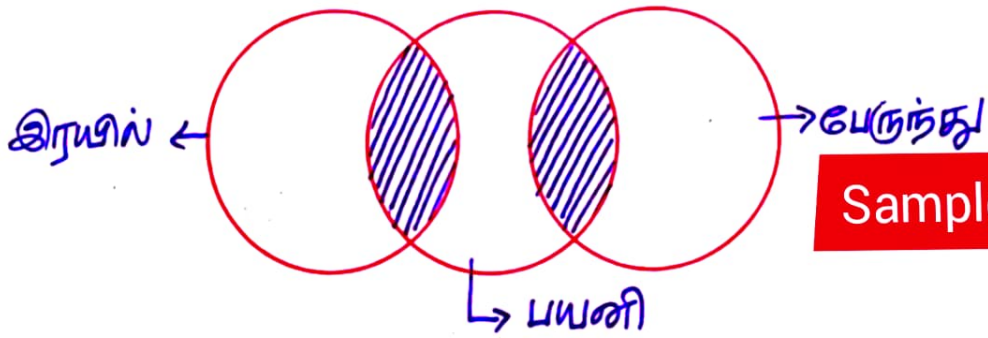


Psychology



Insta id: @tupscbooks

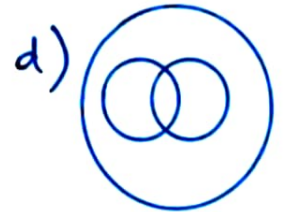
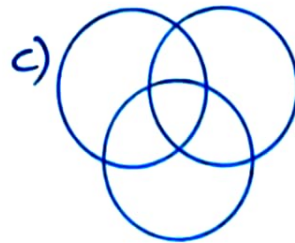

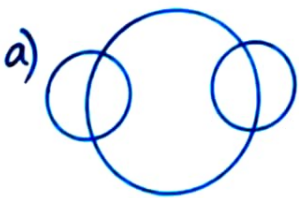
- * சில பயணிகள் இரயில் மெய்யை
- * சில பயணிகள் பேருந்தில் மெய்யை



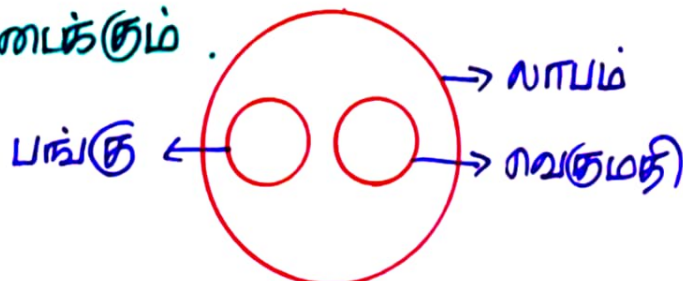
Sample PDF

Answer :- c)

③ இலாபம் , பங்கு , மெதுமதி இயற்றை அளக்கும்
 மெய்யை எது ?



- * ஒரு தொழிலாளர் இலாபம் மெய்யை மட்டுமே பங்கும் ,
 மெதுமதி மெய்யை

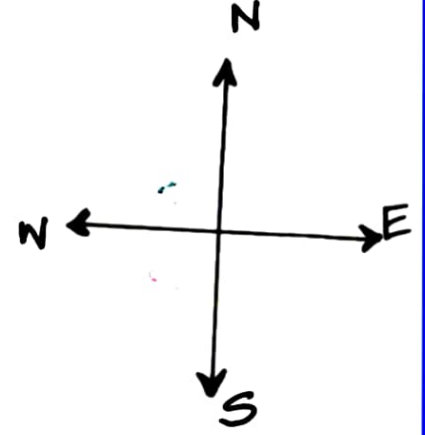
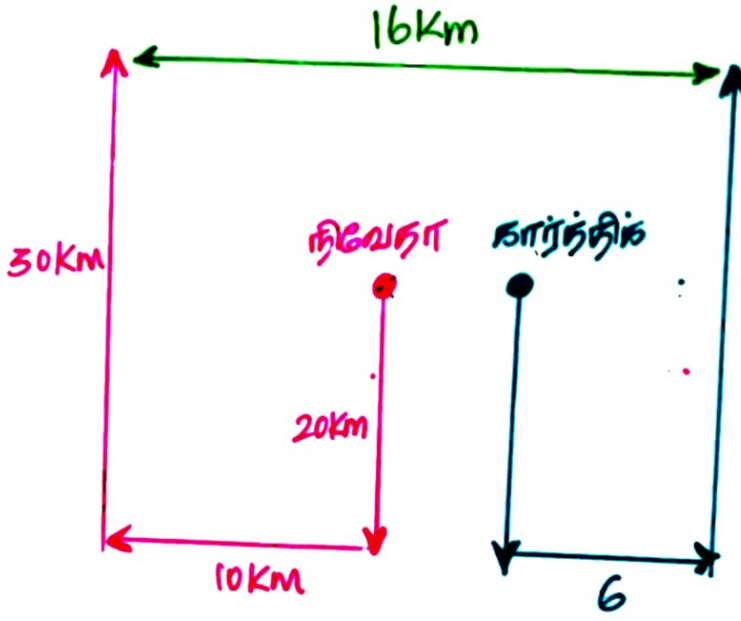


Whatsapp
 9578985878

Answer :- b)

- A) 30 கி.மீ B) 24 கி.மீ C) 18 கி.மீ D) 16 கி.மீ

88



Whatsapp
9578985878

Answer :- D) 16 கி.மீ

Telegram ID: @tupscbooks_official

16) சாதுமார் வடதிசை நோக்கி 10 கி.மீ நடக்கிறான் .

அதிலிருந்து அவன் 6 கி.மீ தென்திசை நோக்கி

நடக்கிறான் . திப்பாடூக்கு அவன் 3 கி.மீ கிழக்கு திசை

நோக்கி நடக்கிறான் . கர்ப்பாது அவன் வரம்பு

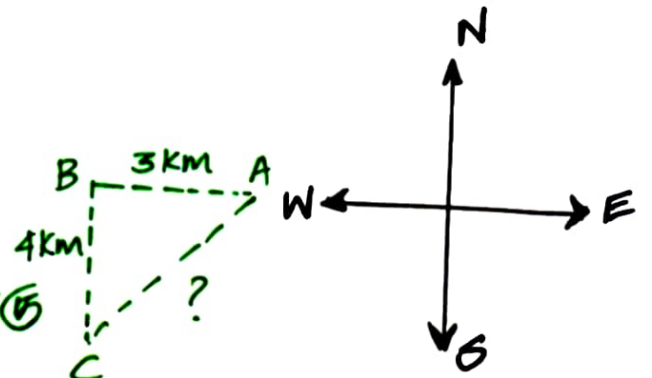
புள்ளியிலிருந்து எந்த திசையில் எவ்வளவு தூரம்

சென்றிருப்பான் ?

Sample PDF

A) 5 கி.மீ மேற்கு B) 7 கி.மீ மேற்கு C) 7 கி.மீ கிழக்கு

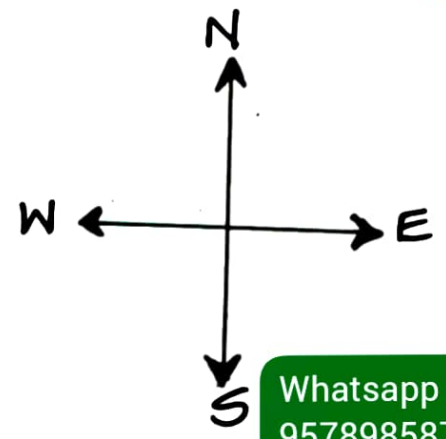
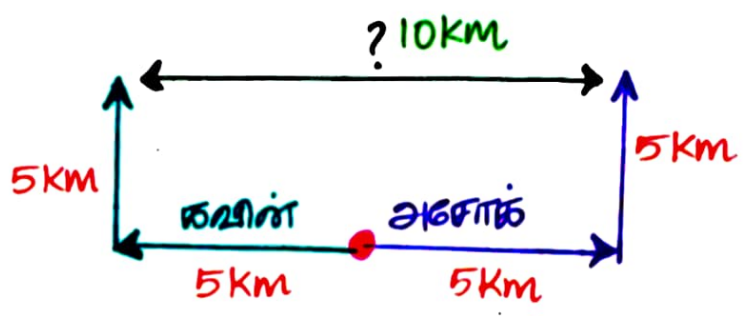
D) 5 கி.மீ வடகிழக்கு.



உளவியல்

- a) 10 கி.மீ b) 15 கி.மீ c) 5 கி.மீ d) 20 கி.மீ

84



Whatsapp
9578985878

Answer :- a) 10 கி.மீ

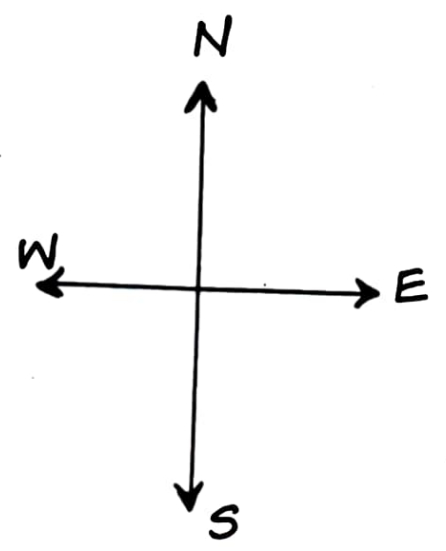
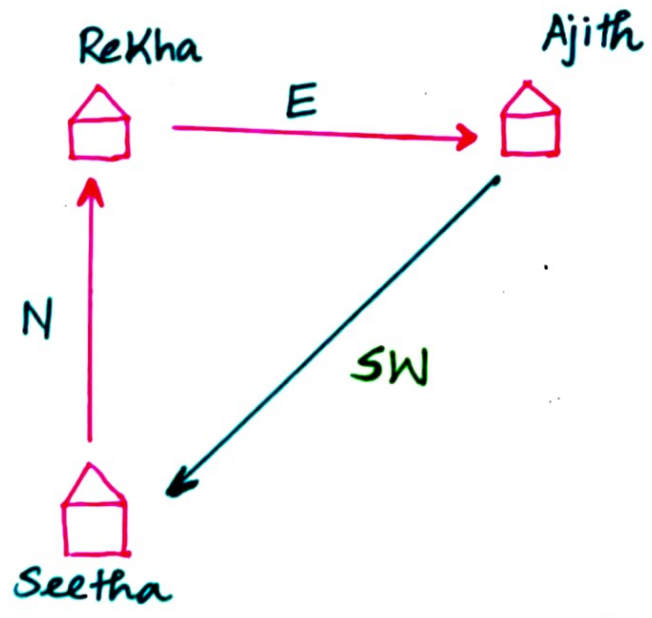
II சீதாவுடன் அப்பாவிருந்து வடக்குத் திசையால் ரேகாவுடன் வீடு உள்ளது. மேலும் ரேகாவுடன் அப்பாவிருந்து கிழக்கு திசையில் அஜித்தின் வீடு உள்ளது. எனில் அஜித் அப்பாவிருந்து எந்த திசையில் சீதாவுடன் வீடு உள்ளது.

Telegram ID: @tupscbooks_official

- a) வடமேற்கு b) வடக்கு c) தென் கிழக்கு
d) கிழக்கு e) தென்மேற்கு

உளவியல்

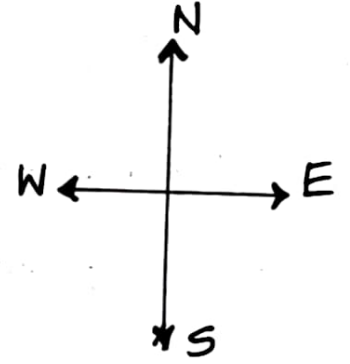
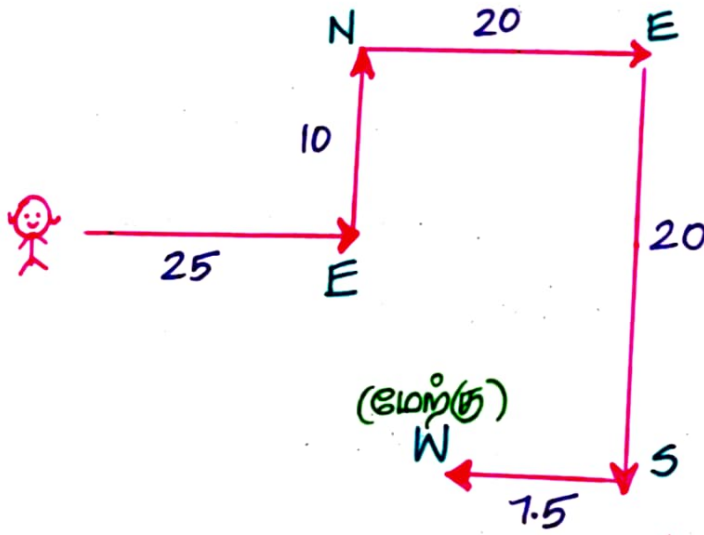
Sample PDF



Answer :- E) தென்மேற்கு

6) நியைதா ஸம்பவன் அவன் வீட்டிலிருந்து கிழக்கு திசையை நோக்கி 25 மீட்டர் நடக்கிறான் . பின்னர் கித்யுறமாக (81) திரும்பி 10 மீட்டர் நடக்கிறான் . அடுத்ததாக வலக்யுறமாக திரும்பி 20 மீட்டர் நடக்கிறான் . மீண்டும் 20 மீட்டர் வலக்யுறமாக நடக்கிறான் . பின்னர் அவன் 7.5 மீட்டர் வலக்யுறமாக நடக்கிறான் . ஸனில் தற்போது அவன் திருக்கும் திசை ஸன்ன ?

- a) வலகிழக்கு b) மேற்கு c) வடக்கு d) தென்மேற்கு



Insta ID: @tnpscbooks

உளவியல்

Answer : B) மேற்கு

Sample PDF

7) ராம் வடக்கு திசையை நோக்கி நடக்கிறான் . பின்னர் அவன் கிடமாக திரும்பி , மீண்டும் வலமாக திரும்பி பின்னர் கிடமாகவும் நடக்கிறான் ஸனில் , தற்போது அவன் ஆரம்பித்த திசையில் இருந்து எந்த திசையை நோக்கி திர்ப்பான் ?

- a) தென்கிழக்கு b) வடமேற்கு c) தென்மேற்கு
d) வலகிழக்கு e) எதுவுமில்லை

Whatsapp
9578985878

5) திணைத் தன் அட்டில் இருந்து 4 மீட்டர் 2 கி.மீ
 காரம் வடக்கு நோக்கி நகர்ந்தான். பின்னர் மேற்கு
 திசையை திரும்பி 3 கி.மீ காரம் நடந்தான். பின்னர்
 கிழக்கு திசை நோக்கி 7 கி.மீ காரம் நடப்பதற்கு
 முன்பாக 1 கி.மீ காரம் வடதிசை நோக்கி திரும்பினான்.
 தற்போது அவன் 4 மீட்டர் இடத்திலிருந்து எந்த
 திசையில் எவ்வளவு காரத்தில் இருக்கிறான்.

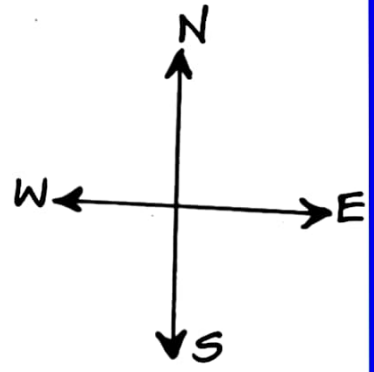
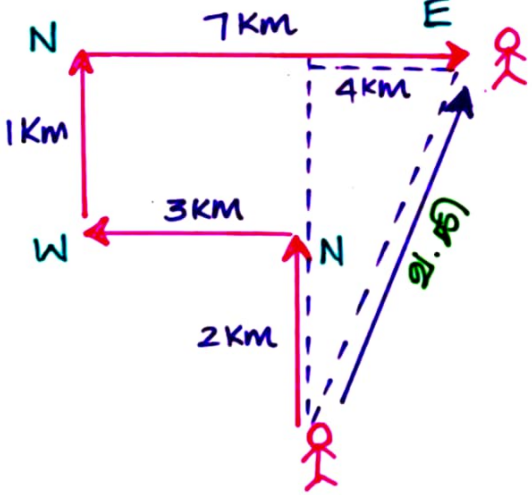
80

Insta ID: @tnpscbooks

- a) வடகிழக்கு திசைநோக்கி 6 கி.மீ
- b) வடமேற்கு திசைநோக்கி 5 கி.மீ
- c) வடமேற்கு திசைநோக்கி 7 கி.மீ
- d) வடகிழக்கு திசைநோக்கி 5 கி.மீ

உளவியல்

Sample PDF



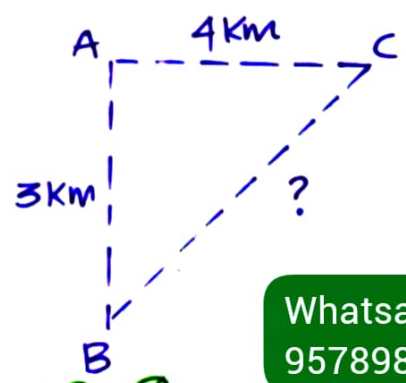
$$BC^2 = AB^2 + AC^2$$

$$BC = \sqrt{(AB)^2 + (AC)^2}$$

$$= \sqrt{3^2 + 4^2}$$

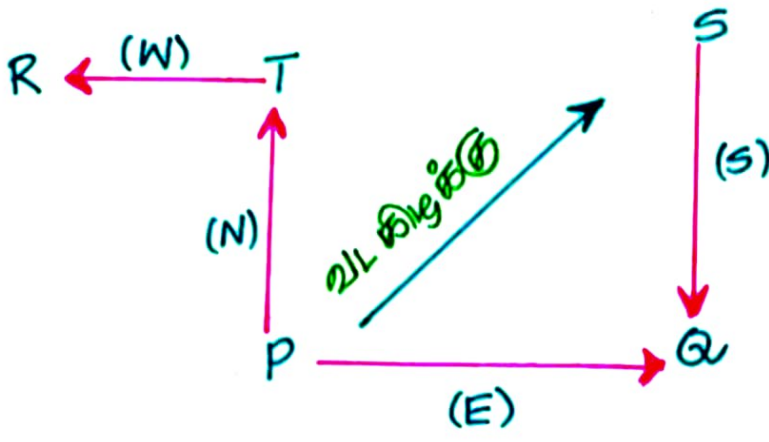
$$= \sqrt{9 + 16}$$

$$BC = \sqrt{25} = 5 \text{ Km}$$



Whatsapp
9578985878

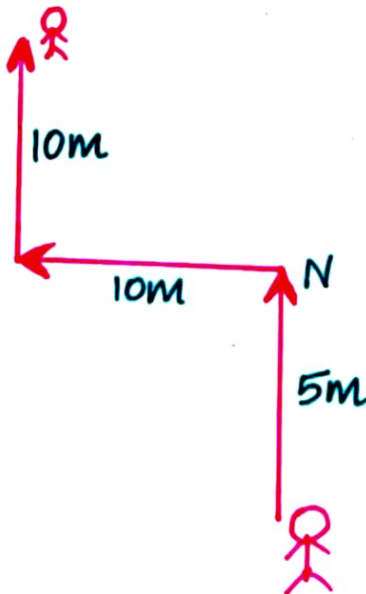
Answer: c) வடகிழக்கு நோக்கி 5 கி.மீ



Answer : D) 21L கிழக்கு

4) காந்திக் ஸ்டாபர் வடதிசை நொக்கி 5 மீட்டர்
கூரம் நடந்தார் . பின்னர் அவர் இடப்பக்கம் திரும்பி
10 மீட்டர் கூரம் நடந்தார் . பின்னர் மீண்டும்
வலப்பக்கம் திரும்பி 10 மீட்டர் கூரம் நடந்தார் .
கற்கபாகு புறப்பல இடத்திலிருந்து அவர் எவ்வளவு
கூரத்தில் உள்ளார் ? [Insta ID: @tnpscbooks](https://www.instagram.com/tnpscbooks)

a) 20 மீ b) 15 மீ c) 25 மீ d) 30 மீ



$$= 5 + 10 + 10$$

Answer = 25 மீட்டர்

Sample PDF

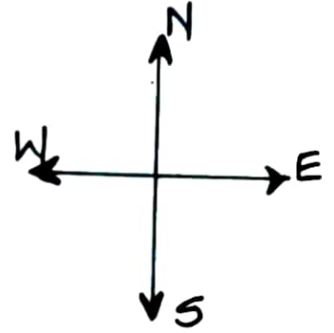
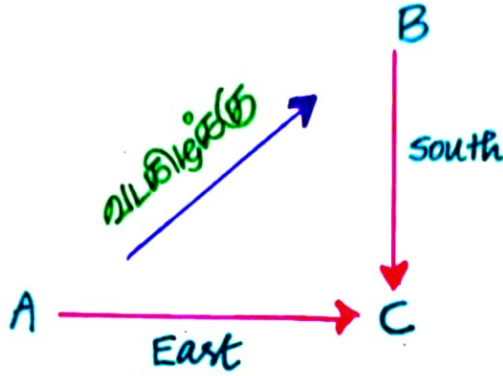
உளவியல்

Whatsapp
9578985878

② Aக்கு கிழக்கில் மீறும் Cக்கு தெற்கில் C உள்ளது எனில், Aக்கு எந்த திசையில் B உள்ளது. (78)

- a) கிழக்கு b) மேற்கு c) தென்கிழக்கு
D) எக்யுமிலிதை

உளவியல்



Answer : D) எக்யுமிலிதை

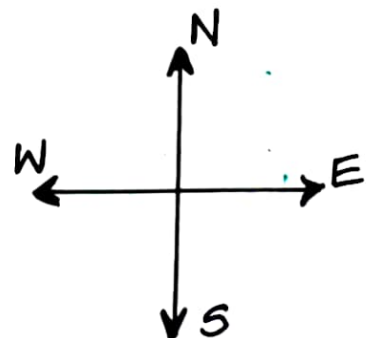
③ P, Q, R, S மற்றும் T ஆகிய ஐந்து கிராமங்கள் உள்ளன. Q என்ற கிராமம் Pக்கு கிழக்கு திசையிலும் Sக்கு தெற்கு திசையிலும் உள்ளது. Pக்கு வட திசையில் உள்ள T என்ற கிராமத்திற்கு மேற்கு திசையில் R என்ற கிராமம் உள்ளது. எனில் P என்ற கிராமத்திற்கு எந்த திசையில் S என்ற கிராமம் உள்ளது ?

Telegram ID: @tupscbooks_official

- a) தென் மேற்கு b) வட மேற்கு c) வடக்கு
d) வட கிழக்கு e) எக்யுமிலிதை.

Sample PDF

Whatsapp
9578985878

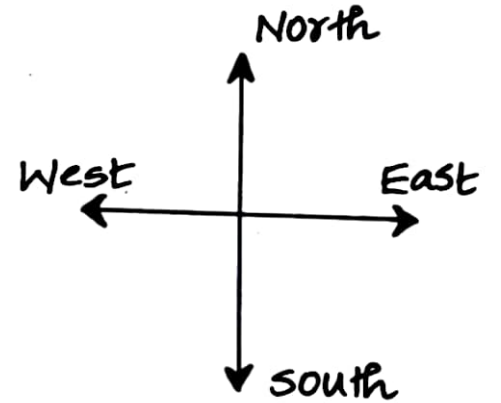
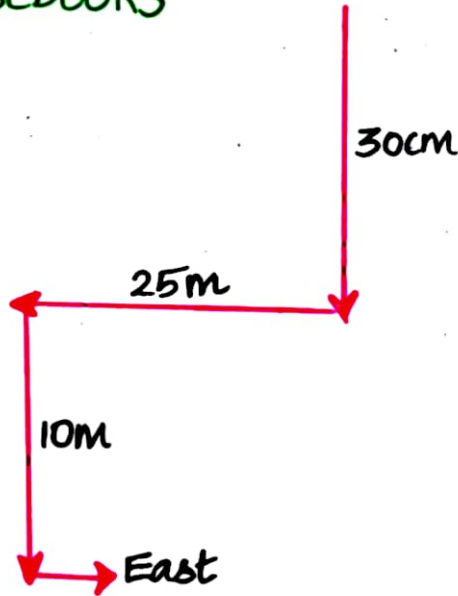


தர்சன ஡றயல் தூரல் :-

1) ர஡ேஜ் ஂ஡்பவரீ ஡த஡்து தர்சனய தூ஡்க்கி 30 ஡ீடர் ஡ட்க்கிறார். ஡஡்஡ர் அவர் வலது ஡ற஡ாக தர்஡்படி 25 ஡ீடர் ஡ட்க்கிறார் ஡றயல் திடது ஡ற஡ாக தர்஡்படி 10 ஡ீடர் ஡ட்க்கிறார். த஡்தது அவர் திடது ஡ற஡ாக தர்஡்படி தர்஡்க்கிறார் ஂ஡ில் ஂ஡்த தர்சனய தூ஡்க்கி தர்஡்பார் ?

- a) திடது஡்து b) ஡஡்து - c) வலது திடது஡்து d) ஡த஡்஡஡்து

Insta ID: @tnpscbooks



உளவியல்

North - வலது

East - திடது஡்து

South - ஡த஡்து

West - ஡஡்து

Sample PDF

Answer = a) திடது஡்து (East)

Whatsapp
9578985878